 <b>GOBIERNO DE ARAGÓN</b> Departamento de Educación, Cultura y Deporte		<b>PREMIOS EXTRAORDINARIOS DE BACHILLERATO</b> Convocatoria 2020-2021	
<b>EJERCICIO 4</b>		<b>GEOGRAFÍA</b>	
<b>Fecha</b>	<b>03/09/2021</b>	<b>DNI/NIE/Pasaporte</b>	
<b>PROVINCIA DE EXAMEN</b>		<b>CALIFICACIÓN</b>	


*La Geografía es una ciencia de síntesis y relación, que estudia diversos fenómenos naturales y humanos: su localización y extensión espacial, los factores que los condicionan, y las relaciones que se establecen entre todos ellos.*

**1) Relieve.** Las **unidades morfoestructurales** están compuestas por *unidades del relieve* o partes importantes de éstas (el *Macizo hercínico ibérico*, por ejemplo, comprende unidades del relieve como el *Sistema Central* o la mitad occidental de la *submeseta sur...*) Observe el mapa y responda a las preguntas que se plantean.



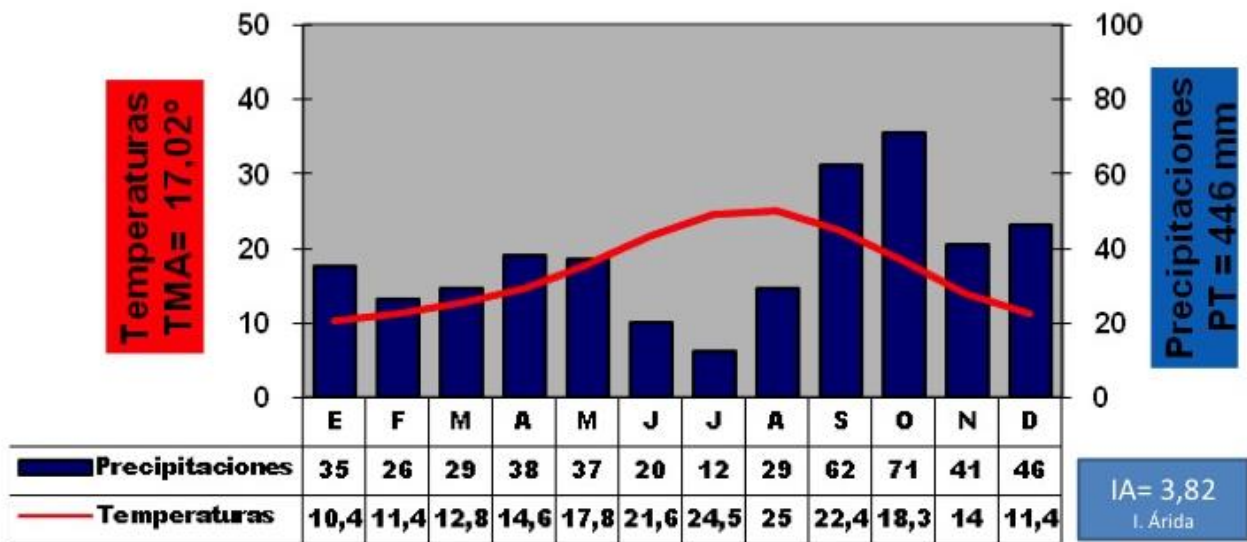
A) En qué unidad del relieve y en qué unidad morfoestructural se encuentran las ciudades de Huesca y Teruel? (1 pto.)

B) Describa la litología y los relieves estructurales característicos de UNA de las dos unidades morfoestructurales citadas en la pregunta A. (1 pto.)

 <b>GOBIERNO DE ARAGON</b> Departamento de Educación, Cultura y Deporte		<b>PREMIOS EXTRAORDINARIOS DE BACHILLERATO</b> Convocatoria 2020-2021	
<b>EJERCICIO 4</b>		<b>GEOGRAFÍA</b>	
<b>Fecha</b>	<b>03/09/2021</b>	<b>DNI/NIE/Pasaporte</b>	
<b>PROVINCIA DE EXAMEN</b>		<b>CALIFICACIÓN</b>	

C) Explique cuál de las tres unidades morfoestructurales presentará más dificultades para la construcción de carreteras y la razón para ello (0,5 pts.)

2) **Clima y vegetación.** Observe el climograma y responda a las preguntas que se plantean.




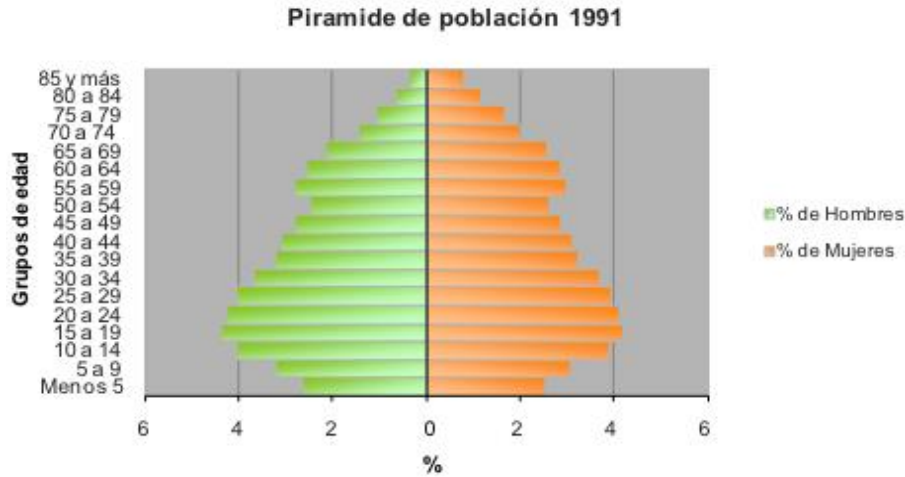
A) A partir de los datos mostrados clasifique el clima correspondiente, señalando sus características termoplumiométricas y las áreas donde se da (1 pts.).

B) ¿Con qué región biogeográfica se correspondería este clima? Describa las formaciones vegetales características de esa región, diferenciando las que son potenciales (también llamadas primarias o climáticas) y las que son reales (secundarias o de degradación) (1 pts.).

C) Relacione los rasgos del clima representado con el atractivo turístico de España para los ciudadanos europeos (0,5 pts.).

3) **Población.** Fíjese en la pirámide de población y responda a las preguntas que se plantean.

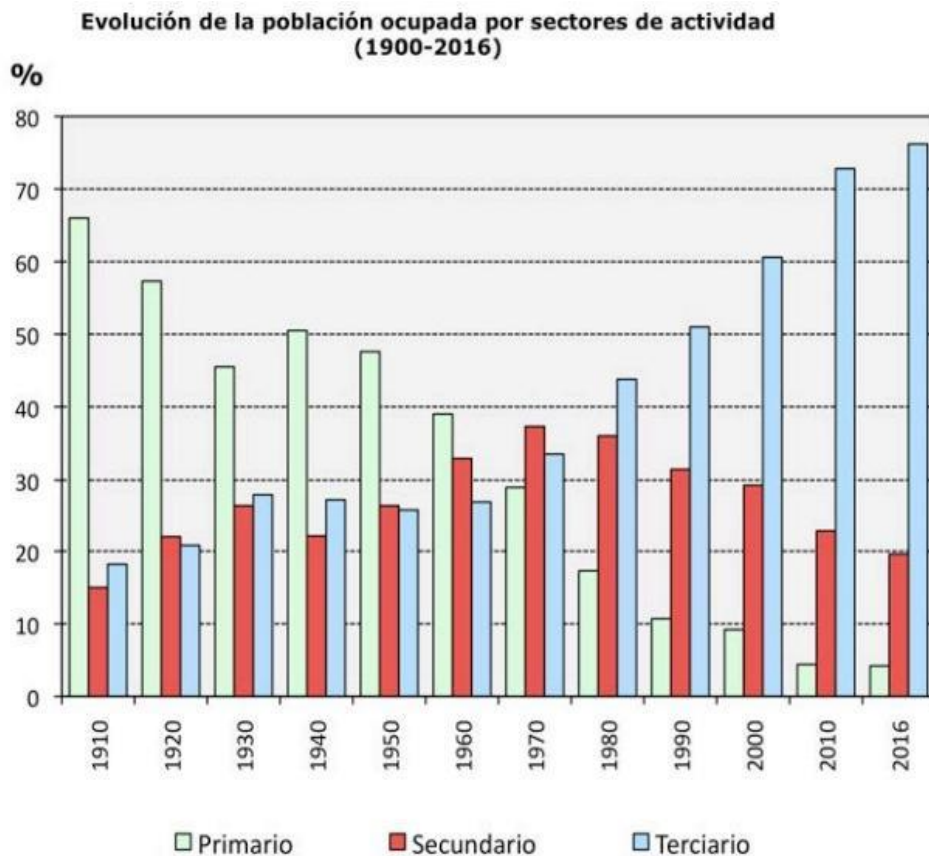
 <b>GOBIERNO DE ARAGÓN</b> Departamento de Educación, Cultura y Deporte		<b>PREMIOS EXTRAORDINARIOS DE BACHILLERATO</b> Convocatoria 2020-2021	
<b>EJERCICIO 4</b>		<b>GEOGRAFÍA</b>	
<b>Fecha</b>	<b>03/09/2021</b>	<b>DNI/NIE/Pasaporte</b>	
<b>PROVINCIA DE EXAMEN</b>		<b>CALIFICACIÓN</b>	




A) Describa la estructura biológica por sexo y edad en 1991 (1 pto.)

B) Relacione la forma de la pirámide con las tasas de natalidad, mortalidad y crecimiento natural, e indique en qué régimen o ciclo demográfico considera que se sitúa la población representada (1,5 pts.)

4) **Actividades económicas.** Observe la gráfica y el mapa, y responda a las siguientes preguntas.



 <b>GOBIERNO DE ARAGON</b> Departamento de Educación, Cultura y Deporte		<b>PREMIOS EXTRAORDINARIOS DE BACHILLERATO</b> <b>Convocatoria 2020-2021</b>	
<b>EJERCICIO 4</b>		<b>GEOGRAFÍA</b>	
<b>Fecha</b>	<b>03/09/2021</b>	<b>DNI/NIE/Pasaporte</b>	
<b>PROVINCIA DE EXAMEN</b>		<b>CALIFICACIÓN</b>	

A) Defina *población ocupada* y *población activa* (0,5 pts.)

B) ¿Cuál es el sector económico preponderante en la economía española? Cite algunos factores que han influido en ello. (1 pts.)

D) Explique algunas de las razones por las que se observa un descenso en los otros dos sectores económicos restantes. (1 pts.)