

DATOS DE LA PERSONA ASPIRANTE	CALIFICACIÓN
Nombre y apellidos: _____ DNI/NIE/Pasaporte: _____	Numérica de 0 a 10, con dos decimales

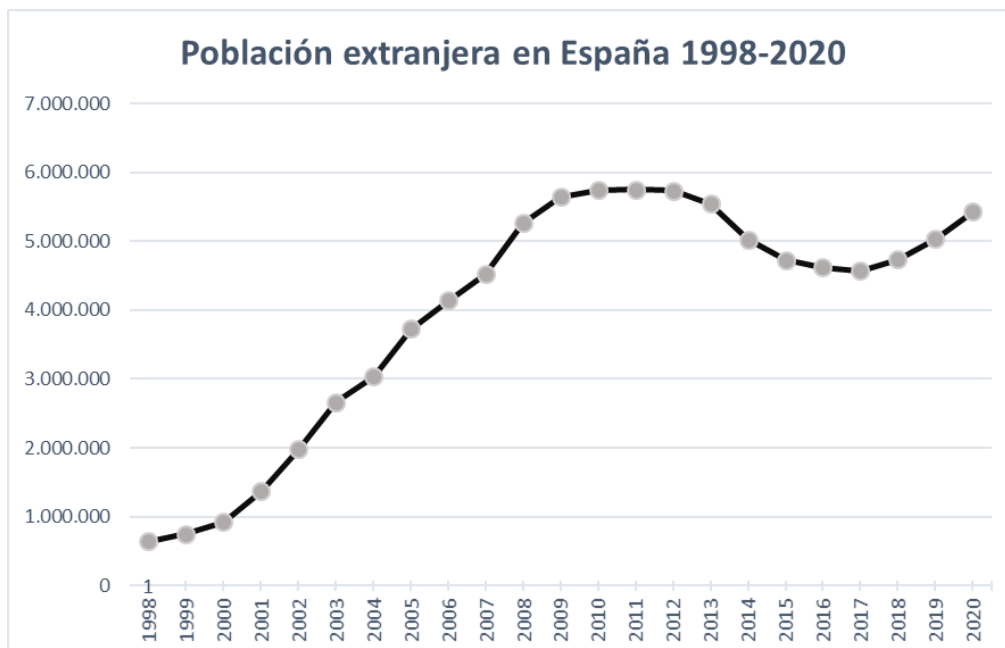
PRUEBAS DE ACCESO A CICLOS FORMATIVOS DE GRADO SUPERIOR

RESOLUCIÓN de 3 de enero de 2024, BOA 16/01/2024

PARTE ESPECÍFICA

OPCIÓN C. HUMANIDADES Y CIENCIAS SOCIALES: GEOGRAFÍA

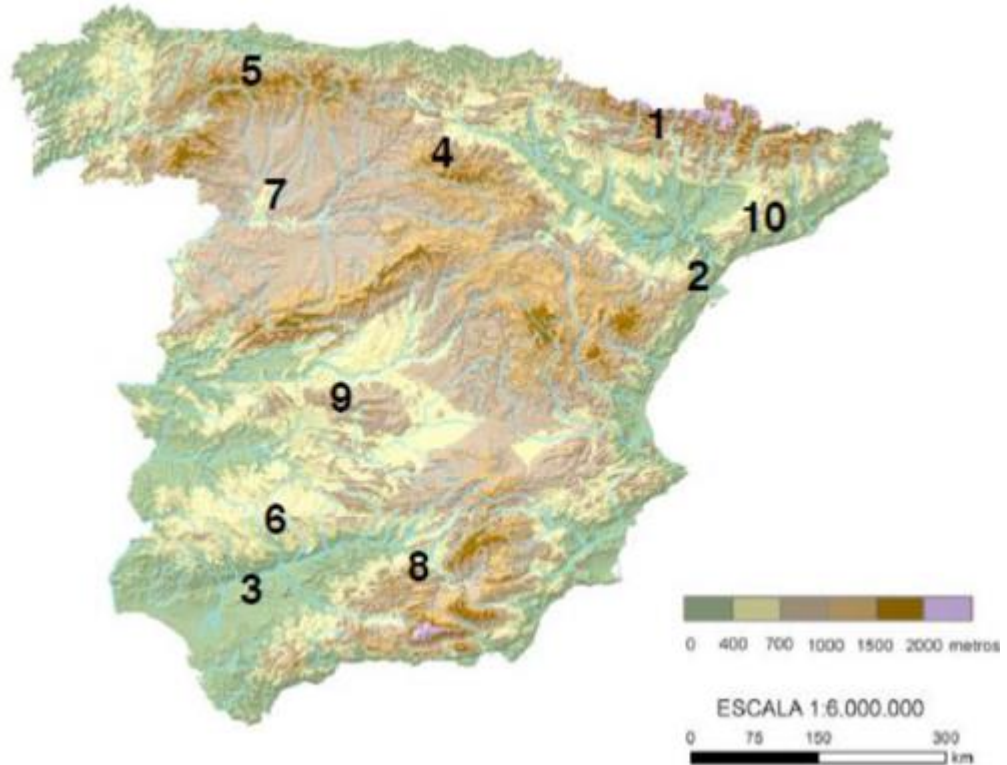
1. Observe el gráfico y conteste a las cuestiones (2 puntos).



- Explique los conceptos de “migraciones exteriores” y “migraciones interiores” (0.5 puntos).
- Describa la gráfica (0.75 puntos).
- Explique las causas y características de la situación migratoria entre 2009 y 2016 (0.75 puntos).



2. Observe el mapa topográfico de la península y conteste a las cuestiones (2 puntos).

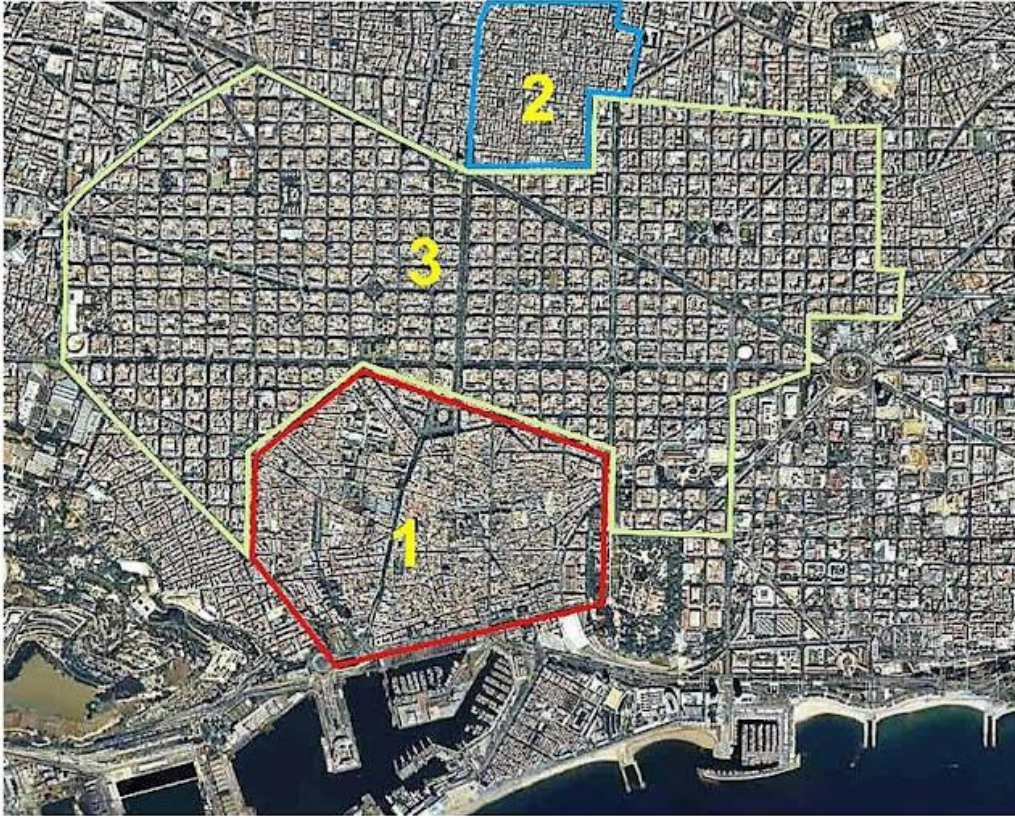


- Identifique las unidades de relieve que corresponden a los números localizados sobre el mapa (0.5 puntos).
- Explique de manera clara la diferencia en la formación de las cadenas de fractura y de plegamientos; cite ejemplos (0.75 puntos).
- ¿Cuáles son las principales formas de modelado de la España silíceo, caliza y arcillosa? (0.75 puntos).

2º. Desarrolle el siguiente tema: El turismo en España: característica e importancia para la economía española (2 puntos).



5º. Observe el plano urbano de la ciudad de Barcelona y conteste a las cuestiones (2 puntos).



- Explique a qué parte de la ciudad corresponde los números que se hallan sobre el mapa y diga qué tipo de plano tiene cada una de ellas (0.5 puntos).
- Explique qué es un área metropolitana y una conurbación. Escriba también un ejemplo de área metropolitana en España (0.5 puntos).
- Expliqué algunos de los problemas sociales que se dan en las ciudades españolas en la actualidad (0.5 puntos).
- Explique qué se entiende por “funciones urbanas”. Escriba varios ejemplos concretos (0.5 puntos).



4º. Conteste a las siguientes cuestiones cortas (2 puntos).

- a) Escriba el nombre de dos subtipos existentes dentro del clima mediterráneo (0.25 puntos).
- b) Cite al menos cuatro espacios protegidos (0.25 puntos).
- c) Explique algunos de los problemas medioambientales de España (0.5 puntos).
- d) ¿Qué zonas españolas destacan por su importancia en la industria y en qué están especializadas? (0.5 puntos).
- e) ¿Qué es la dependencia energética española? ¿por qué se produce? (0.5 puntos).

INSTRUCCIONES DE APLICACIÓN Y MATERIALES PERMITIDOS
<p>En la calificación se tendrá en cuenta la coherencia expositiva y el empleo de la terminología adecuada.</p> <p>No se permiten materiales de apoyo.</p> <p>Cuide siempre su ortografía.</p>